


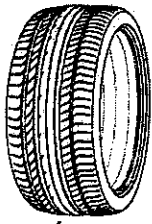
ĐỀ THI MÔN: KIỂU DẠNG CÔNG NGHIỆP

ĐỀ SỐ 2

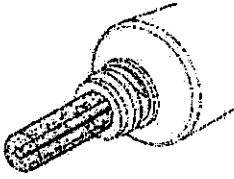
Câu 1: Theo Anh/Chị, những đối tượng nào dưới đây là đối tượng của kiểu dáng công nghiệp theo quy định hiện hành, trường hợp không phải thì giải thích tại sao? (2 điểm)



1. Dao



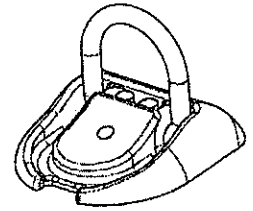
2. Lốp ô tô



3. Phần đầu kem đánh răng



4. Búp bê



5. Khóa




6. Viên kẹo



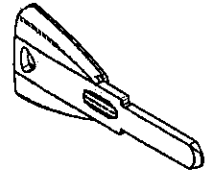
7. Lâu đài



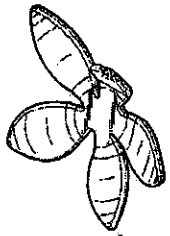
8. Hoa văn trên vải



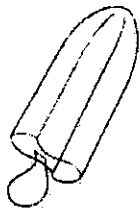
9. Khóa thắt lưng



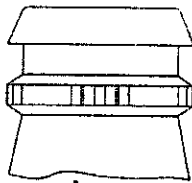
10. Chìa khóa



11. Hạt tẩy rửa



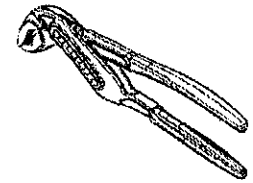
12. Cây kem



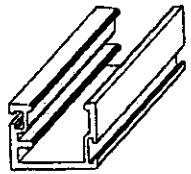
13. Cổ chai



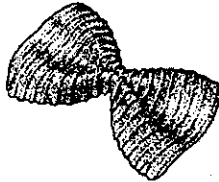
14. Cổng thành



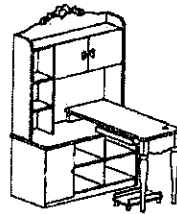
15. Kìm



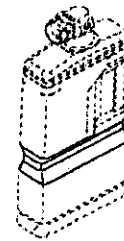
16. Thanh định hình



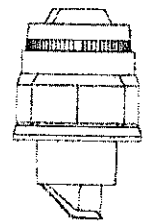
17. Mi nui



18. Tủ

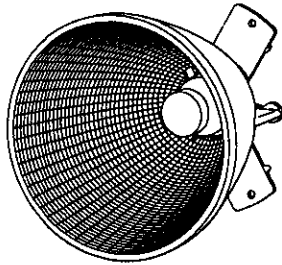


19. Thân chai

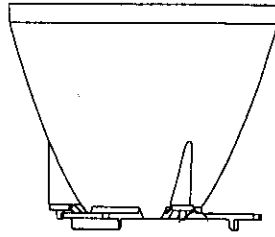


20. Nút chai

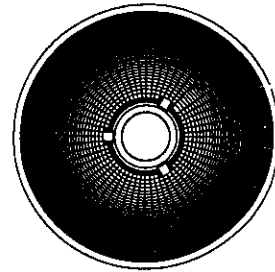
Câu 2: Nhận được bộ bản vẽ dưới đây từ Chủ đơn với yêu cầu đăng ký kiểu dáng công nghiệp cho Đèn, Anh/Chị hãy chỉ ra những thiếu sót của bộ bản vẽ kiểu dáng công nghiệp (nếu có) và mô tả/giải thích cách khắc phục thiếu sót để bộ bản vẽ kiểu dáng công nghiệp đáp ứng các yêu cầu về hình thức theo quy định hiện hành. Cho trước Hình 1-hình phối cảnh và Hình 2-hình chiếu từ phía trước là các hình vẽ chuẩn của kiểu dáng công nghiệp. (3 điểm)



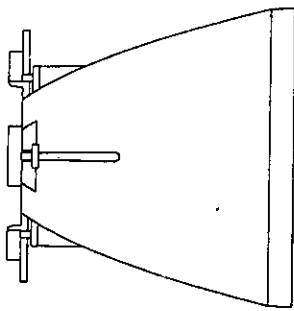
Hình 1



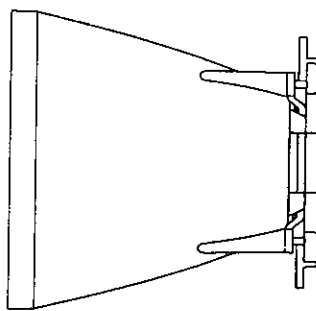
Hình 2



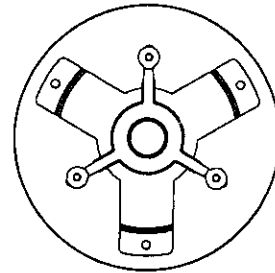
Hình 3



Hình 4

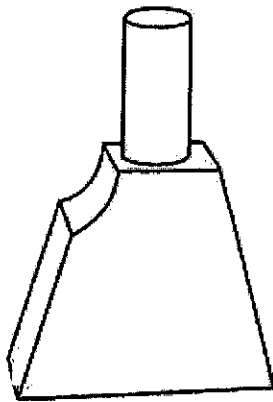


Hình 5

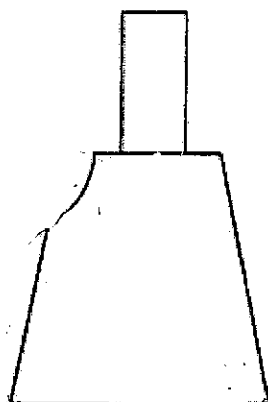


Hình 6


Câu 3: Anh/Chị hãy tiến hành liệt kê bản vẽ và mô tả chi tiết đối với đối tượng Chai dưới đây phù hợp với yêu cầu liệt kê và mô tả chi tiết của Bản mô tả kiểu dáng công nghiệp. (3 điểm)



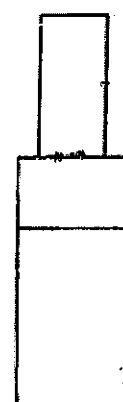
Hình 1



Hình 2



Hình 3



Hình 4

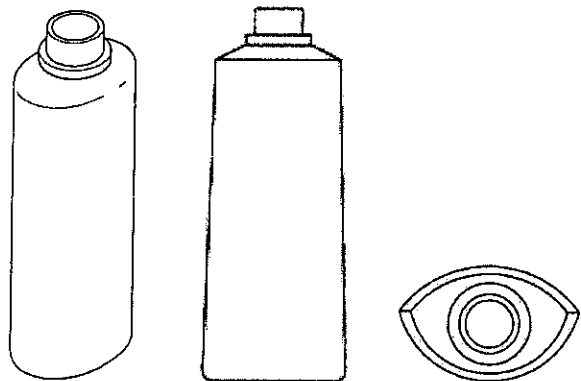


Hình 5

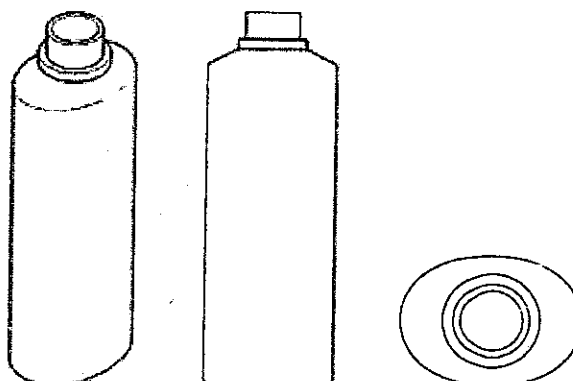


Hình 6

Câu 4: Theo ủy quyền của Chủ đơn, Anh/Chị đã nộp đơn đăng ký cho kiểu dáng công nghiệp **C** tại Cục Sở hữu trí tuệ. Sau khi đơn được chấp nhận là hợp lệ, Anh/Chị nhận được yêu cầu của Chủ đơn này về việc nộp bổ sung kiểu dáng công nghiệp **D** vào đơn nêu trên dưới dạng phương án 2. Để đảm bảo quyền lợi tối đa cho Chủ đơn theo quy định hiện hành, Anh/Chị sẽ tư vấn như thế nào cho Chủ đơn trong trường hợp này? Các hình vẽ đại diện cho các kiểu dáng công nghiệp **C** và **D** được thể hiện dưới đây. (2 điểm)



Kiểu dáng công nghiệp C: Chai



Kiểu dáng công nghiệp D: Chai

ĐÁP ÁN

ĐỀ BÀI KIỂM TRA MÔN KIỂU DÁNG CÔNG NGHIỆP

Câu 1: 2 điểm. Mỗi ý trả lời đúng và đủ được 0,1 điểm

- Đối tượng của KDCN bao gồm: 1, 2, 4, 5, 6, 9, 10, 11, 12, 15, 16, 17, 18, 20
- Không phải đối tượng:
 - + 3: sản phẩm không có hình dáng cố định
 - + 7: là công trình xây dựng dân dụng, loại trừ theo Điều 64.2 Luật SHTT
 - + 8: chỉ là một đặc điểm tạo dáng của vải (không đề cập đến toàn bộ tấm vải)
 - + 13: chỉ là một phần của chai (không phải toàn bộ sản phẩm)
 - + 14: là công trình xây dựng dân dụng, loại trừ theo Điều 64.2 Luật SHTT
 - + 19: chỉ là một phần của chai (không phải toàn bộ sản phẩm)

Câu 2: 3 điểm. Mỗi ý trả lời đúng được 0,25 điểm

Thiếu sót:

- Hình 4, Hình 5, Hình 6 không cùng chiều với các hình khác,
- Hình 4, Hình 5 không cùng một tỷ lệ với hình chuẩn,
- Thiếu hình chiếu từ phía sau

Cách khắc phục thiếu sót:

- Xoay Hình 4 một góc 90 độ ngược chiều kim đồng hồ,
- Xoay Hình 5 một góc 90 độ cùng chiều kim đồng hồ,
- Xoay Hình 6 một góc 90 độ ngược chiều kim đồng hồ,
- Chính lại Hình 4 để cùng một tỷ lệ với hình chuẩn,
- Chính lại Hình 5 để cùng một tỷ lệ với hình chuẩn,
- Vì tương tự (đối xứng) với hình chiếu phía trước nên hình chiếu phía sau không cần cung cấp.

Câu 3: 3 điểm. Mỗi ý trả lời đúng và đủ được 0,25 điểm

a. Liệt kê bản vẽ:

- Hình 1: Hình phối cảnh
- Hình 2: Hình chiếu từ phía trước (Hình chiếu từ phía sau là tương tự)
- Hình 3: Hình chiếu từ phía phải
- Hình 4: Hình chiếu từ phía trái
- Hình 5: Hình chiếu từ phía dưới
- Hình 6: Hình chiếu từ phía trên




b. Phân mô tả kiểu dáng công nghiệp

- Kiểu dáng công nghiệp là chai bao gồm thân chai, đáy chai và nắp chai.
- Thân chai có dạng hộp phẳng hình thang cân bị cắt khuyết mất một góc ở một cạnh bên và đáy phía trên của hình thang.
 - Đáy nhỏ hình thang của thân chai dùng làm vai chai ở phía trên.
 - Đáy lớn hình thang của thân chai dùng làm đáy chai ở phía dưới.

- Phần bị cắt khuyết ở góc giữa một cạnh bên và đáy phía trên của hình thang có dạng mặt cong lõm vào phía trong thân chai.
- Nắp chai có dạng hình khối trụ tròn xoay đáy sát xuống bề mặt vai chai.

Câu 4: 2 điểm. Mỗi ý trả lời đúng và đủ được 0,25 điểm

- Kiểu dáng công nghiệp C đã nộp và kiểu dáng công nghiệp D được đề nghị bổ sung điều đề cập đến chai (đề đề cập đến cùng một loại sản phẩm mang kiểu dáng công nghiệp).
- Do kiểu dáng công nghiệp C đã được chấp nhận đơn nhưng chưa có quyết định cuối cùng về việc cấp hay không cấp văn bằng bảo hộ, nên việc bổ sung phương án có thể được thực hiện dưới dạng sửa đổi tài liệu đơn.
- Xét về bản chất, kiểu dáng công nghiệp C và kiểu dáng công nghiệp D có tiết diện mặt cắt ngang thân chai hoàn toàn khác nhau.
- Xét về tổng thể thì các kiểu dáng công nghiệp C và D được coi là khác biệt đáng kể với nhau.
- Vì khác biệt đáng kể với nhau, nên kiểu dáng công nghiệp D bị coi là có bản chất thay đổi so với kiểu dáng công nghiệp C đã nộp trong đơn (hoặc nội dung sửa đổi vượt quá phạm vi bộc lộ).
- Nội dung sửa đổi không phù hợp với quy định tại điểm 17.1.c Thông tư số 01/2007/TT-BKHCN.
- Do đó, nội dung sửa đổi sẽ không được chấp nhận trong đơn đã nộp.
- Tư vấn cho Chủ đơn cần nộp một đơn độc lập cho kiểu dáng công nghiệp D ngay sau khi có đủ thông tin cần thiết về kiểu dáng công nghiệp này.

Chủ tịch Hội đồng	Trưởng Ban Thư ký	Trưởng ban chuyên môn
 Tạ Quang Minh	 Hoàng Văn Tân	 Hoàng Văn Tân

